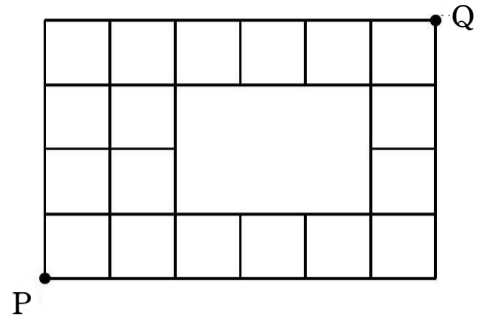


# 最短経路①

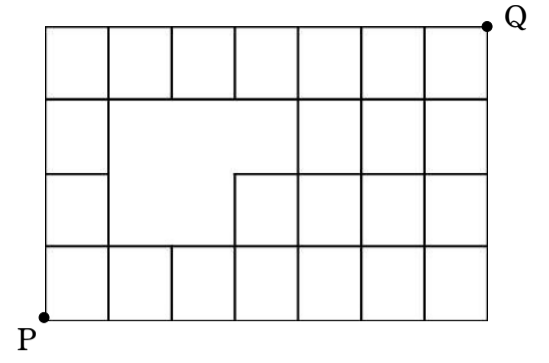
1

右図のような経路で、点 P を出発して点 Q へ行く最短経路は何通りあるか。



2

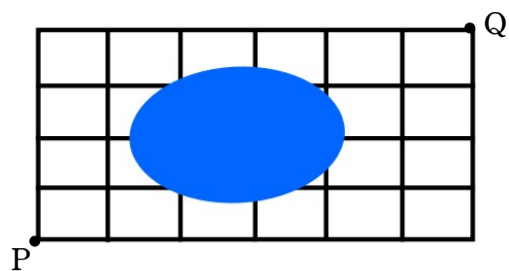
右図のような経路で、点 P を出発して点 Q へ行く最短経路は何通りあるか。



## 最短経路②

3

右図のような格子状の道路があり、池がある部分の道路は使用できない。このとき、交差点 P から交差点 Q までの最短経路は何通りあるか。



4

右図のような経路で、点 P を出発して点 R を通り点 Q へ行く最短経路は何通りあるか。

